

Властивості і відношення предметів. Лічба

Прізвище ім'я по батькові учня

Клас

Дата

Опис тесту:

Математика - це завжди цікаво й весело.

Спробуй виконати завдання й перевірити свої математичні вміння.

Успіхів!

Питання №1



Хто стоїть третім?

- А) вовчик
 В) лисичка

Б) білочка

Питання №2



Скільки всього листочків?

- А) 3
- В) 2

- Б) 1

Питання №3



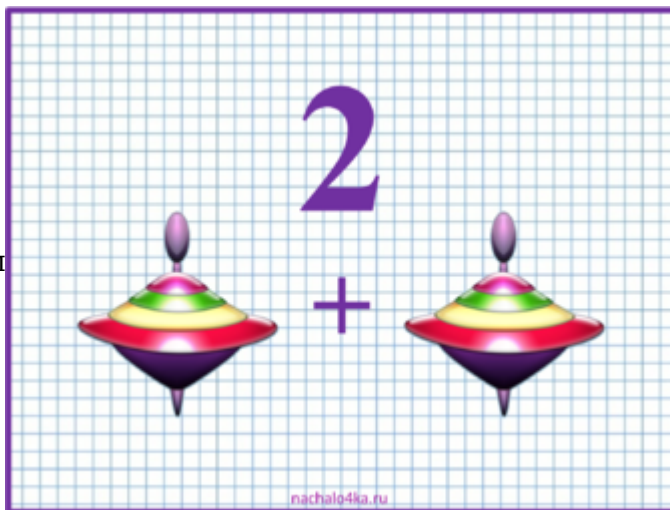
Запиши числом кількість листочків.

Жовтих листочків - _

Зелених листочків - _

Питання №4

Склади приклад за малюнком



Ваша відповідь:

Питання №5



Скільки кругів?

А) 1

Б) 2

В) 4

Питання №6

Що це?




А) пряма

Б) відрізок

В) промінь

Питання №7

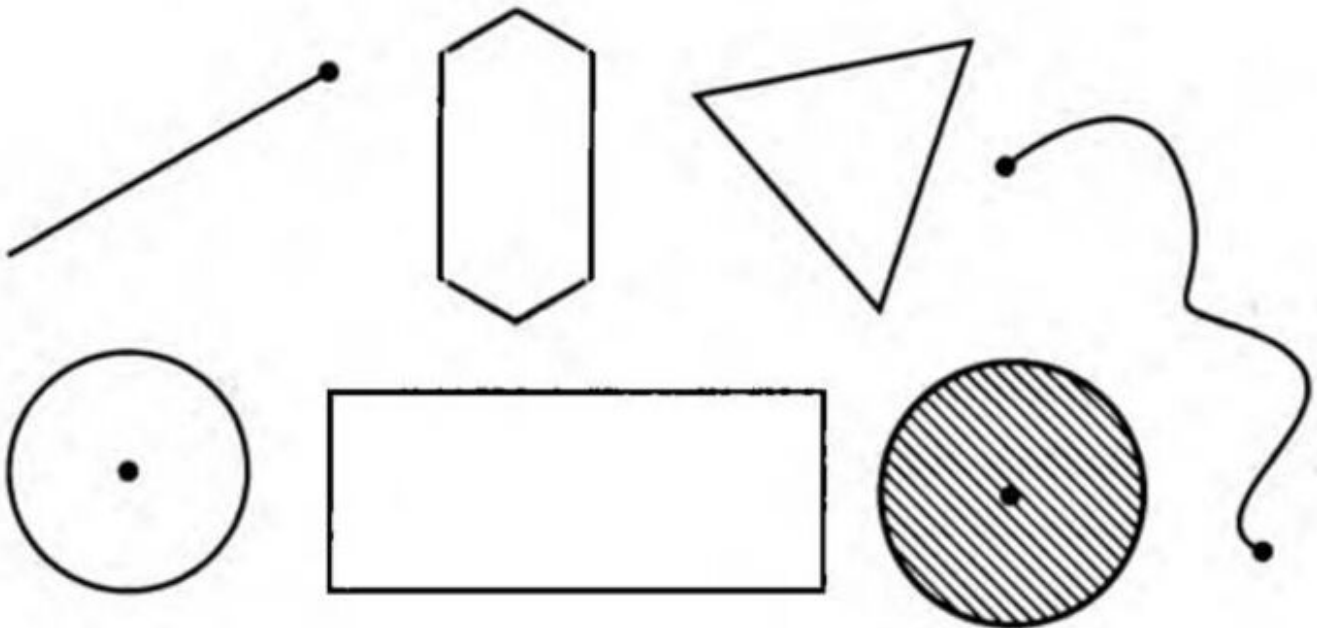



Уважно порахуй і запиши числом кількість трикутників.

Ваша відповідь:

Питання №8

Покажіть на рисунку промінь



Питання №9

Оберіть правильний приклад

_____ (Варіанти: $1+1=2$, $1+2=3$, $2+1=3$)

Питання №10

Обери всі правильні відповіді.

3 - це

А) $1+1+1$

Б) $1+1$

В) $1+2$

Г) $2+1$

Д) $2+2$

Питання №11

Яку нерівність записано вірно?

А) $1>2$

Б) $1<2$

В) $2>3$

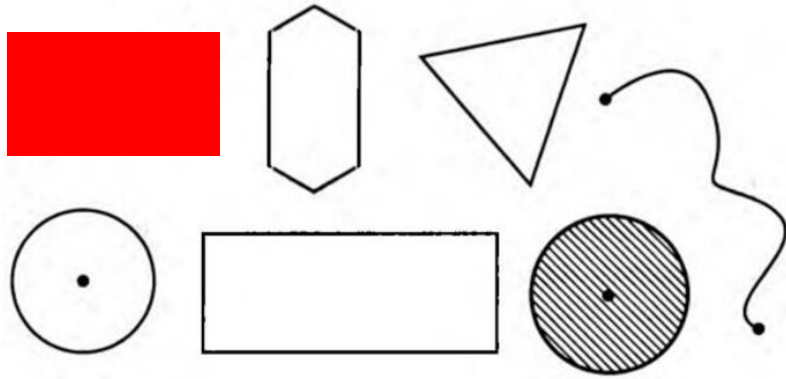
Ключ до тесту

1. Б
4. $1+1=2$, $1+1$, $1+1=2$

2. А
5. Б
8.

3. 3;1
6. Б

7. 3



9. $2+1=3$

10. А, В, Г

11. Б